






5. Uz nogriežņa MN, kas ir 40 cm garš, atlikts punkts C tā, ka nogriežņu MC un CN attiecība ir 3 : 5. Uzzīmē shematisku zīmējumu! Aprēķini, cik garš ir nogrieznis CN! Uzraksti atbildi!



6. Neliels eiro daudzums sadalīts divās daļās. Daļu attiecība ir 2 : 9. Cik liels ir viss naudas daudzums, ja mazākā daļa ir 8 eiro?



7. Taisnstūrveida pļavas garuma un platuma attiecība ir 7 : 5. Pļavas platums ir 600 m. Sakārto dotos lielumus tabulā! Aprēķini pļavas garumu! Uzraksti atbildi!



8. 3 km liels attālums dabā ir attēlots kartē kā 6 cm garš nogrieznis. Cik garš nogrieznis šajā kartē atbilst 10 km lielam attālumam dabā?

